

1

ENTRAINEMENT 1

Décompose en milliers, centaines, dizaines et unités.

$$1\ 532 = \square \times 1000 + \square \times 100 + \square \times 10 + \square \times 1$$

$$6\ 215 = \square \times 1000 + \square \times 100 + \square \times 10 + \square \times 1$$

04

LA TANIÈRE DE Kuban

étoile rose

1

ENTRAINEMENT 2

Décompose en milliers, centaines, dizaines et unités.

$$4\ 261 = \square \times 1000 + \square \times 100 + \square \times 10 + \square \times 1$$

$$5\ 027 = \square \times 1000 + \square \times 100 + \square \times 10 + \square \times 1$$

04

LA TANIÈRE DE Kuban

étoile rose

1

ENTRAINEMENT 3

Décompose en milliers, centaines, dizaines et unités.

$$4\ 301 = \square \times 1000 + \square \times 100 + \square \times 10 + \square \times 1$$

$$8\ 241 = \square \times 1000 + \square \times 100 + \square \times 10 + \square \times 1$$

04

LA TANIÈRE DE Kuban

étoile rose

1

ENTRAINEMENT 4

Décompose en milliers, centaines, dizaines et unités.

$$7\ 085 = \square \times 1000 + \square \times 100 + \square \times 10 + \square \times 1$$

$$3\ 581 = \square \times 1000 + \square \times 100 + \square \times 10 + \square \times 1$$

04

LA TANIÈRE DE Kuban

étoile rose

1

ENTRAINEMENT 5

Décompose en milliers, centaines, dizaines et unités.

$$6\ 251 = \square \times 1000 + \square \times 100 + \square \times 10 + \square \times 1$$

$$9\ 314 = \square \times 1000 + \square \times 100 + \square \times 10 + \square \times 1$$

04

LA TANIÈRE DE Kuban

étoile rose

1

ENTRAINEMENT 6

Décompose en milliers, centaines, dizaines et unités.

$$8\ 520 = \square \times 1000 + \square \times 100 + \square \times 10 + \square \times 1$$

$$2\ 015 = \square \times 1000 + \square \times 100 + \square \times 10 + \square \times 1$$

04

LA TANIÈRE DE Kuban

étoile rose

1

ENTRAINEMENT 7

Décompose en milliers, centaines, dizaines et unités.

$$2\ 051 = \square \times 1000 + \square \times 100 + \square \times 10 + \square \times 1$$

$$3\ 050 = \square \times 1000 + \square \times 100 + \square \times 10 + \square \times 1$$

04

LA TANIÈRE DE Kuban

étoile rose

1

ENTRAINEMENT 8

Décompose en milliers, centaines, dizaines et unités.

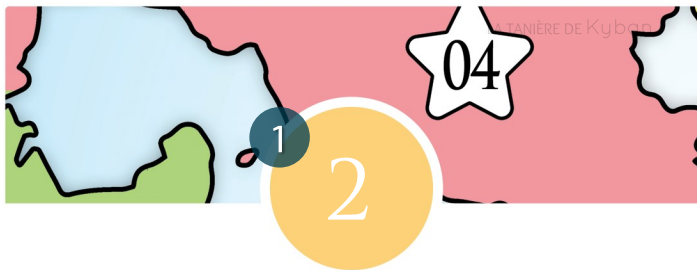
$$5\ 812 = \square \times 1000 + \square \times 100 + \square \times 10 + \square \times 1$$

$$6\ 025 = \square \times 1000 + \square \times 100 + \square \times 10 + \square \times 1$$

04

LA TANIÈRE DE Kuban


étoile rose



Réponses / Résultats :
 $4\ 261 = 4 \times 1000 + 2 \times 100 + 6 \times 10 + 1 \times 1$
 $5\ 027 = 5 \times 1000 + 0 \times 100 + 2 \times 10 + 7 \times 1$



Réponses / Résultats :
 $1\ 532 = 1 \times 1000 + 5 \times 100 + 3 \times 10 + 2 \times 1$
 $6\ 215 = 6 \times 1000 + 2 \times 100 + 1 \times 10 + 5 \times 1$



Réponses / Résultats :
 $7\ 085 = 7 \times 1000 + 0 \times 100 + 8 \times 10 + 5 \times 1$
 $3\ 581 = 3 \times 1000 + 5 \times 100 + 8 \times 10 + 1 \times 1$



Réponses / Résultats :
 $4\ 301 = 4 \times 1000 + 3 \times 100 + 0 \times 10 + 1 \times 1$
 $8\ 241 = 8 \times 1000 + 2 \times 100 + 4 \times 10 + 1 \times 1$



Réponses / Résultats :
 $8\ 520 = 8 \times 1000 + 5 \times 100 + 2 \times 10 + 1 \times 1$
 $2\ 015 = 2 \times 1000 + 0 \times 100 + 1 \times 10 + 5 \times 1$



Réponses / Résultats :
 $6\ 251 = 6 \times 1000 + 2 \times 100 + 5 \times 10 + 1 \times 1$
 $9\ 314 = 9 \times 1000 + 3 \times 100 + 1 \times 10 + 4 \times 1$



Réponses / Résultats :
 $5\ 812 = 5 \times 1000 + 8 \times 100 + 1 \times 10 + 2 \times 1$
 $6\ 025 = 6 \times 1000 + 0 \times 100 + 2 \times 10 + 5 \times 1$



Réponses / Résultats :
 $2\ 051 = 2 \times 1000 + 0 \times 100 + 5 \times 10 + 1 \times 1$
 $3\ 050 = 3 \times 1000 + 0 \times 100 + 5 \times 10 + 0 \times 1$

2

ENTRAINEMENT 1

Ecris les égalités ci-dessous et complète.

$42 + \square = 100$

$32 + \square = 100$

$58 + \square = 100$

$87 + \square = 100$

04

LA TANIÈRE DE Kuban

étoile rose

2

ENTRAINEMENT 2

Ecris les égalités ci-dessous et complète.

$21 + \square = 100$

$25 + \square = 100$

$78 + \square = 100$

$37 + \square = 100$

04

LA TANIÈRE DE Kuban

étoile rose

2

ENTRAINEMENT 3

Ecris les égalités ci-dessous et complète.

$84 + \square = 100$

$72 + \square = 100$

$36 + \square = 100$

$43 + \square = 100$

04

LA TANIÈRE DE Kuban

étoile rose

2

ENTRAINEMENT 4

Ecris les égalités ci-dessous et complète.

$72 + \square = 100$

$53 + \square = 100$

$28 + \square = 100$

$81 + \square = 100$

04

LA TANIÈRE DE Kuban

étoile rose

3

ENTRAINEMENT 1

Complète la frise numérique.



04

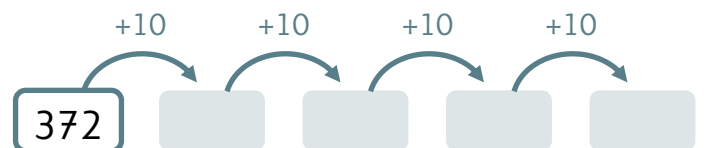
LA TANIÈRE DE Kuban

étoile rose

3

ENTRAINEMENT 2

Complète la frise numérique.



04

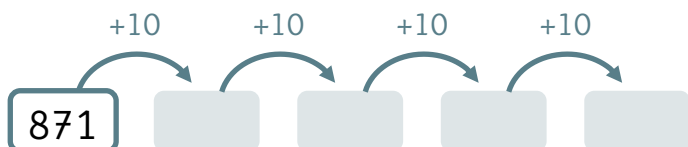
LA TANIÈRE DE Kuban

étoile rose

3

ENTRAINEMENT 3

Complète la frise numérique.



04

LA TANIÈRE DE Kuban

étoile rose

3

ENTRAINEMENT 4

Complète la frise numérique.



04

LA TANIÈRE DE Kuban

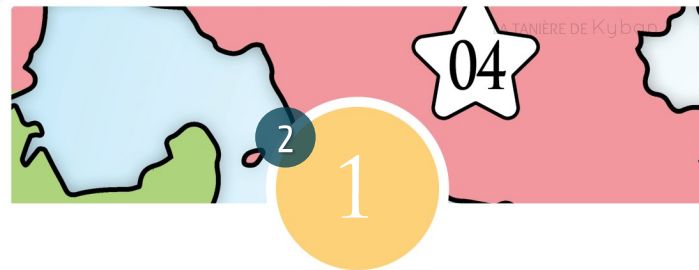
étoile rose



Réponses / Résultats :

$$21 + 79 = 100 / 25 + 75 = 100$$

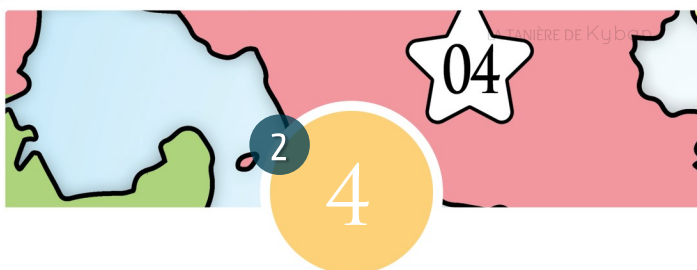
$$78 + 22 = 100 / 37 + 63 = 100$$



Réponses / Résultats :

$$42 + 58 = 100 / 32 + 68 = 100$$

$$58 + 42 = 100 / 87 + 13 = 100$$



Réponses / Résultats :

$$72 + 28 = 100 / 53 + 47 = 100$$

$$28 + 72 = 100 / 81 + 19 = 100$$



Réponses / Résultats :

$$84 + 16 = 100 / 72 + 28 = 100$$

$$36 + 64 = 100 / 43 + 57 = 100$$



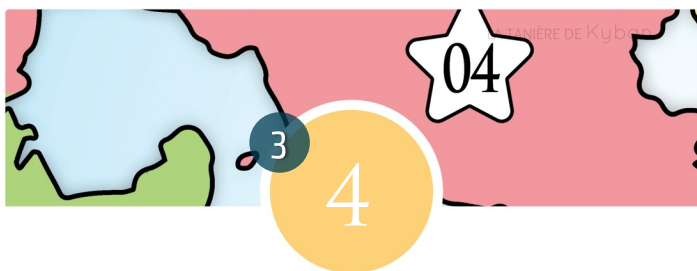
Réponses / Résultats :

$$372 \rightarrow 382 \rightarrow 392 \rightarrow 402 \rightarrow 412$$



Réponses / Résultats :

$$721 \rightarrow 821 \rightarrow 921 \rightarrow 1021 \rightarrow 1121$$



Réponses / Résultats :

$$248 \rightarrow 348 \rightarrow 448 \rightarrow 548 \rightarrow 648$$



Réponses / Résultats :

$$871 \rightarrow 881 \rightarrow 891 \rightarrow 901 \rightarrow 911$$

4

ENTRAINEMENT 1

Pose les additions ci-dessous et calcule le résultat.

$836 + 451 =$

$872 + 258 =$

$287 + 571 =$

$866 + 274 =$

04

LA TANIÈRE DE Kuban

étoile rose

4

ENTRAINEMENT 2

Pose les additions ci-dessous et calcule le résultat.

$527 + 273 =$

$687 + 248 =$

$247 + 721 =$

$752 + 578 =$

04

LA TANIÈRE DE Kuban

étoile rose

4

ENTRAINEMENT 3

Pose les additions ci-dessous et calcule le résultat.

$548 + 251 =$

$874 + 251 =$

$547 + 257 =$

$248 + 501 =$

04

LA TANIÈRE DE Kuban

étoile rose

4

ENTRAINEMENT 4

Pose les additions ci-dessous et calcule le résultat.

$248 + 521 =$

$547 + 272 =$

$758 + 314 =$

$574 + 584 =$

04

LA TANIÈRE DE Kuban

étoile rose

4

ENTRAINEMENT 5

Pose les additions ci-dessous et calcule le résultat.

$647 + 584 =$

$354 + 584 =$

$874 + 278 =$

$247 + 581 =$

04

LA TANIÈRE DE Kuban

étoile rose

4

ENTRAINEMENT 6

Pose les additions ci-dessous et calcule le résultat.

$384 + 251 =$

$581 + 250 =$

$874 + 357 =$

$874 + 500 =$

04

LA TANIÈRE DE Kuban

étoile rose

4

ENTRAINEMENT 7

Pose les additions ci-dessous et calcule le résultat.

$874 + 202 =$

$567 + 241 =$

$578 + 597 =$

$3\ 205 + 574 =$

04

LA TANIÈRE DE Kuban

étoile rose

4

ENTRAINEMENT 8

Pose les additions ci-dessous et calcule le résultat.

$384 + 581 =$

$6\ 842 + 257 =$


$2\ 687 + 581 =$

$7\ 248 + 671 =$

04

LA TANIÈRE DE Kuban

étoile rose



Réponses / Résultats :

$$527 + 273 = 800 / 687 + 248 = 935$$

$$247 + 721 = 968 / 752 + 578 = 1\ 330$$



Réponses / Résultats :

$$836 + 451 = 1\ 284 / 872 + 258 = 1\ 130$$

$$287 + 571 = 858 / 866 + 274 = 1\ 140$$



Réponses / Résultats :

$$248 + 521 = 769 / 547 + 272 = 819$$

$$758 + 314 = 1\ 072 / 574 + 584 = 1\ 158$$



Réponses / Résultats :

$$548 + 251 = 799 / 874 + 251 = 1\ 125$$

$$547 + 257 = 804 / 248 + 501 = 749$$



Réponses / Résultats :

$$384 + 251 = 635 / 581 + 250 = 831$$

$$874 + 357 = 1\ 231 / 874 + 500 = 1\ 374$$



Réponses / Résultats :

$$647 + 584 = 1\ 231 / 354 + 584 = 938$$

$$874 + 278 = 1\ 152 / 247 + 581 = 828$$



Réponses / Résultats :

$$384 + 581 = 965 / 6\ 842 + 257 = 7\ 099$$

$$2\ 687 + 581 = 3\ 268 / 7\ 248 + 671 = 7\ 919$$



Réponses / Résultats :

$$874 + 202 = 1\ 076 / 567 + 241 = 808$$

$$578 + 597 = 1\ 175 / 3\ 205 + 574 = 3\ 779$$

5

ENTRAINEMENT 1

Ecris les égalités ci-dessous et calcule le résultat.

$2 \times 4 =$

$8 \times 4 =$

$3 \times 8 =$

$7 \times 8 =$

04

LA TANIÈRE DE Kyban

étoile rose

5

ENTRAINEMENT 2

Ecris les égalités ci-dessous et calcule le résultat.

$9 \times 4 =$

$3 \times 4 =$

$3 \times 8 =$

$4 \times 8 =$

04

LA TANIÈRE DE Kyban

étoile rose

5

ENTRAINEMENT 3

Ecris les égalités ci-dessous et calcule le résultat.

$10 \times 4 =$

$4 \times 4 =$

$6 \times 8 =$

$5 \times 8 =$

04

LA TANIÈRE DE Kyban

étoile rose

5

ENTRAINEMENT 4

Ecris les égalités ci-dessous et calcule le résultat.

$4 \times 4 =$

$5 \times 4 =$

$6 \times 8 =$

$5 \times 8 =$

04

LA TANIÈRE DE Kyban

étoile rose

5

ENTRAINEMENT 5

Ecris les égalités ci-dessous et calcule le résultat.

$6 \times 4 =$

$7 \times 4 =$

$8 \times 8 =$

$6 \times 8 =$

04

LA TANIÈRE DE Kyban

étoile rose

5

ENTRAINEMENT 6

Ecris les égalités ci-dessous et calcule le résultat.

$6 \times 4 =$

$5 \times 4 =$

$7 \times 8 =$

$9 \times 8 =$

04

LA TANIÈRE DE Kyban

étoile rose

5

ENTRAINEMENT 7

Ecris les égalités ci-dessous et calcule le résultat.

$3 \times 4 =$

$9 \times 8 =$

$10 \times 8 =$

$7 \times 4 =$

04

LA TANIÈRE DE Kyban

étoile rose

5

ENTRAINEMENT 8

Ecris les égalités ci-dessous et calcule le résultat.

$9 \times 4 =$

$3 \times 8 =$

$2 \times 8 =$

$8 \times 4 =$

04

LA TANIÈRE DE Kyban

étoile rose



Réponses / Résultats :

$$9 \times 4 = 36 / 3 \times 4 = 12$$

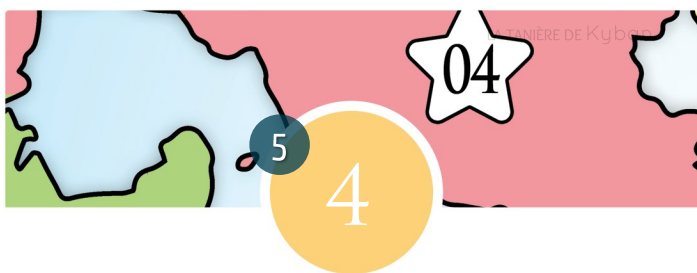
$$3 \times 8 = 240 / 4 \times 8 = 32$$



Réponses / Résultats :

$$2 \times 4 = 8 / 8 \times 4 = 32$$

$$3 \times 8 = 24 / 7 \times 8 = 56$$



Réponses / Résultats :

$$4 \times 4 = 16 / 5 \times 4 = 20$$

$$6 \times 8 = 48 / 5 \times 8 = 40$$



Réponses / Résultats :

$$10 \times 4 = 40 / 4 \times 4 = 16$$

$$6 \times 8 = 48 / 5 \times 8 = 40$$



Réponses / Résultats :

$$6 \times 4 = 24 / 5 \times 4 = 20$$

$$7 \times 8 = 56 / 9 \times 8 = 72$$



Réponses / Résultats :

$$6 \times 4 = 24 / 7 \times 4 = 28$$

$$8 \times 8 = 64 / 6 \times 8 = 48$$



Réponses / Résultats :

$$9 \times 4 = 36 / 3 \times 8 = 24$$

$$2 \times 8 = 16 / 8 \times 4 = 32$$



Réponses / Résultats :

$$3 \times 4 = 12 / 9 \times 8 = 72$$

$$10 \times 8 = 80 / 7 \times 4 = 28$$

6

ENTRAINEMENT 1

Ecris les égalités ci-dessous et calcule le résultat.

$800 \times 4 =$

$7 \times 40 =$

$3 \times 80 =$

$6 \times 4\,000 =$

04

LA TANIÈRE DE Kyban

étoile rose

6

ENTRAINEMENT 2

Ecris les égalités ci-dessous et calcule le résultat.

$6 \times 8\,000 =$

$400 \times 2 =$

$7 \times 40 =$

$80 \times 4 =$

04

LA TANIÈRE DE Kyban

étoile rose

6

ENTRAINEMENT 3

Ecris les égalités ci-dessous et calcule le résultat.

$6 \times 400 =$

$7 \times 40 =$

$80 \times 7 =$

$400 \times 5 =$

04

LA TANIÈRE DE Kyban

étoile rose

6

ENTRAINEMENT 4

Ecris les égalités ci-dessous et calcule le résultat.

$6 \times 800 =$

$800 \times 8 =$

$4\,000 \times 4 =$

$9 \times 80 =$

04

LA TANIÈRE DE Kyban

étoile rose

6

ENTRAINEMENT 5

Ecris les égalités ci-dessous et calcule le résultat.

$7 \times 40 =$

$2 \times 80 =$

$6 \times 40\,000 =$

$3 \times 400 =$

04

LA TANIÈRE DE Kyban

étoile rose

6

ENTRAINEMENT 6

Ecris les égalités ci-dessous et calcule le résultat.

$40\,000 \times 7 =$

$800 \times 6 =$

$6 \times 40 =$

$7 \times 8\,000 =$

04

LA TANIÈRE DE Kyban

étoile rose

6

ENTRAINEMENT 7

Ecris les égalités ci-dessous et calcule le résultat.

$5 \times 80\,000 =$

$2 \times 8\,000 =$

$3 \times 40 =$

$6 \times 4\,000 =$

04

LA TANIÈRE DE Kyban

étoile rose

6

ENTRAINEMENT 8

Ecris les égalités ci-dessous et calcule le résultat.

$400 \times 9 =$

$6 \times 400 =$

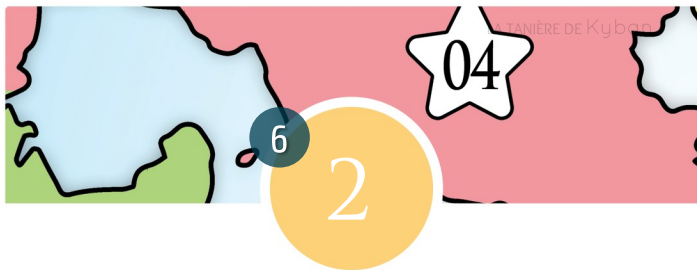
$9 \times 80 =$

$6 \times 80\,000 =$

04

LA TANIÈRE DE Kyban

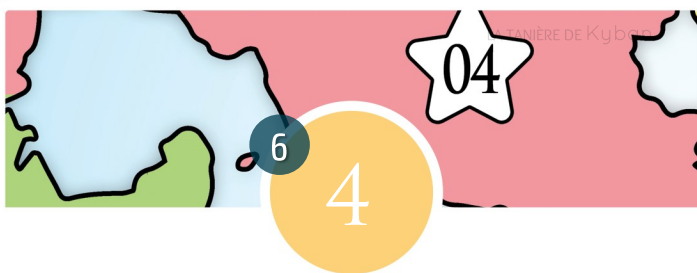
étoile rose



Réponses / Résultats :
 $6 \times 8\,000 = 48\,000$ / $400 \times 2 = 800$
 $7 \times 40 = 280$ / $80 \times 4 = 320$



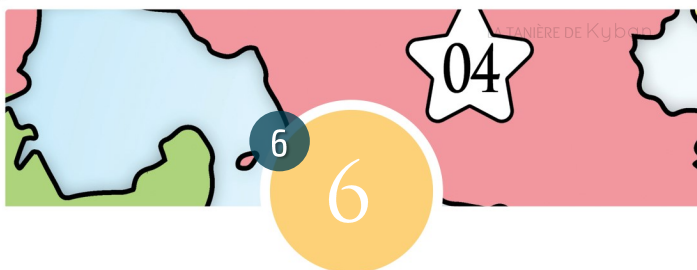
Réponses / Résultats :
 $800 \times 4 = 3\,200$ / $7 \times 40 = 280$
 $3 \times 80 = 240$ / $6 \times 4\,000 = 24\,000$



Réponses / Résultats :
 $6 \times 800 = 4\,800$ / $800 \times 8 = 6\,400$
 $4\,000 \times 4 = 16\,000$ / $9 \times 80 = 720$



Réponses / Résultats :
 $6 \times 400 = 2\,400$ / $7 \times 40 = 280$
 $80 \times 7 = 560$ / $400 \times 5 = 2\,000$



Réponses / Résultats :
 $40\,000 \times 7 = 280\,000$ / $800 \times 6 = 4\,800$
 $6 \times 40 = 240$ / $7 \times 8\,000 = 56\,000$



Réponses / Résultats :
 $7 \times 40 = 280$ / $2 \times 80 = 160$
 $6 \times 40\,000 = 240\,000$ / $7 \times 8\,000 = 56\,000$



Réponses / Résultats :
 $400 \times 9 = 3\,600$ / $6 \times 400 = 2\,400$
 $9 \times 80 = 720$ / $6 \times 80\,000 = 480\,000$



Réponses / Résultats :
 $5 \times 80\,000 = 400\,000$ / $2 \times 8\,000 = 16\,000$
 $3 \times 40 = 120$ / $6 \times 4\,000 = 24\,000$

7

ENTRAINEMENT 1

Ecris les égalités ci-dessous et calcule le résultat.

$5 \times 500 =$

$3 \times 50 =$

$7 \times 50 =$

$9 \times 5\,000 =$

04

LA TANIÈRE DE Kyban

étoile rose

7

ENTRAINEMENT 2

Ecris les égalités ci-dessous et calcule le résultat.

$7 \times 500 =$

$4 \times 5\,000 =$

$3 \times 50 =$

$9 \times 50 =$

04

LA TANIÈRE DE Kyban

étoile rose

7

ENTRAINEMENT 3

Ecris les égalités ci-dessous et calcule le résultat.

$3 \times 500 =$

$7 \times 5\,000 =$

$5 \times 50 =$

$8 \times 50 =$

04

LA TANIÈRE DE Kyban

étoile rose

7

ENTRAINEMENT 4

Ecris les égalités ci-dessous et calcule le résultat.

$3 \times 50 =$

$2 \times 500 =$

$6 \times 5\,000 =$

$9 \times 50 =$

04

LA TANIÈRE DE Kyban

étoile rose

7

ENTRAINEMENT 5

Ecris les égalités ci-dessous et calcule le résultat.

$2 \times 500 =$

$4 \times 50 =$

$7 \times 50 =$

$9 \times 5\,000 =$

04

LA TANIÈRE DE Kyban

étoile rose

7

ENTRAINEMENT 6

Ecris les égalités ci-dessous et calcule le résultat.

$9 \times 50 =$

$8 \times 5\,000 =$

$4 \times 500 =$

$5 \times 50 =$

04

LA TANIÈRE DE Kyban

étoile rose

7

ENTRAINEMENT 7

Ecris les égalités ci-dessous et calcule le résultat.

$7 \times 50 =$

$4 \times 500 =$

$6 \times 5\,000 =$

$2 \times 50 =$

04

LA TANIÈRE DE Kyban

étoile rose

7

ENTRAINEMENT 8

Ecris les égalités ci-dessous et calcule le résultat.

$8 \times 50 =$

$9 \times 5\,000 =$

$6 \times 500 =$

$2 \times 50 =$

04

LA TANIÈRE DE Kyban


étoile rose



Réponses / Résultats :
 $7 \times 500 = 3\,500$ / $4 \times 5\,000 = 20\,000$
 $3 \times 50 = 150$ / $9 \times 50 = 450$



Réponses / Résultats :
 $5 \times 500 = 2\,500$ / $3 \times 50 = 150$
 $7 \times 50 = 350$ / $9 \times 5\,000 = 45\,000$



Réponses / Résultats :
 $3 \times 50 = 150$ / $2 \times 500 = 1\,000$
 $6 \times 5\,000 = 30\,000$ / $9 \times 50 = 450$



Réponses / Résultats :
 $3 \times 500 = 1\,500$ / $7 \times 5\,000 = 35\,000$
 $5 \times 50 = 250$ / $8 \times 50 = 400$



Réponses / Résultats :
 $9 \times 50 = 450$ / $8 \times 5\,000 = 40\,000$
 $4 \times 500 = 2\,000$ / $5 \times 50 = 250$



Réponses / Résultats :
 $2 \times 500 = 1\,000$ / $4 \times 50 = 200$
 $7 \times 50 = 350$ / $9 \times 5\,000 = 45\,000$



Réponses / Résultats :
 $8 \times 50 = 400$ / $9 \times 500 = 4\,500$
 $6 \times 5\,000 = 30\,000$ / $2 \times 50 = 100$



Réponses / Résultats :
 $7 \times 50 = 350$ / $4 \times 5\,000 = 20\,000$
 $6 \times 500 = 3\,000$ / $2 \times 50 = 100$

8

ENTRAINEMENT 1

Ecris les égalités ci-dessous et calcule le résultat.

$57 - 29 =$

$81 - 29 =$

$72 - 39 =$

$300 - 49 =$

04

LA TANIÈRE DE Kyban

étoile rose

8

ENTRAINEMENT 2

Ecris les égalités ci-dessous et calcule le résultat.

$72 - 19 =$

$48 - 39 =$

$60 - 19 =$

$90 - 39 =$

04

LA TANIÈRE DE Kyban

étoile rose

8

ENTRAINEMENT 3

Ecris les égalités ci-dessous et calcule le résultat.

$37 - 29 =$

$72 - 39 =$

$85 - 59 =$

$83 - 79 =$

04

LA TANIÈRE DE Kyban

étoile rose

8

ENTRAINEMENT 4

Ecris les égalités ci-dessous et calcule le résultat.

$90 - 29 =$

$80 - 79 =$

$69 - 39 =$

$38 - 29 =$

04

LA TANIÈRE DE Kyban

étoile rose

8

ENTRAINEMENT 5

Ecris les égalités ci-dessous et calcule le résultat.

$92 - 59 =$

$59 - 29 =$

$74 - 39 =$

$91 - 69 =$

04

LA TANIÈRE DE Kyban

étoile rose

8

ENTRAINEMENT 6

Ecris les égalités ci-dessous et calcule le résultat.

$48 - 39 =$

$88 - 49 =$

$84 - 69 =$

$93 - 89 =$

04

LA TANIÈRE DE Kyban

étoile rose

8

ENTRAINEMENT 7

Ecris les égalités ci-dessous et calcule le résultat.

$90 - 29 =$

$47 - 29 =$

$68 - 39 =$

$600 - 89 =$

04

LA TANIÈRE DE Kyban

étoile rose

8

ENTRAINEMENT 8

Ecris les égalités ci-dessous et calcule le résultat.

$82 - 59 =$

$90 - 39 =$


$800 - 39 =$

$82 - 49 =$

04

LA TANIÈRE DE Kyban

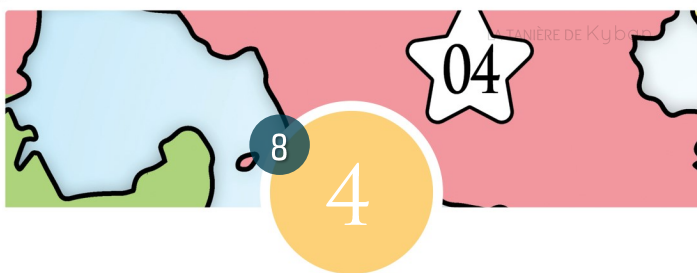
étoile rose



Réponses / Résultats :
 $72 - 11 = 53$ / $48 - 39 = 9$
 $60 - 19 = 41$ / $90 - 39 = 51$



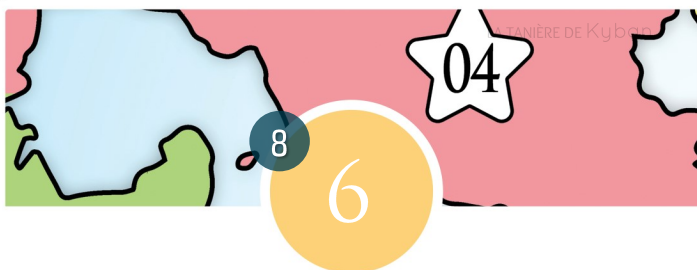
Réponses / Résultats :
 $57 - 21 = 28$ / $81 - 29 = 52$
 $72 - 39 = 33$ / $300 - 49 = 251$



Réponses / Résultats :
 $90 - 29 = 61$ / $80 - 79 = 1$
 $69 - 39 = 30$ / $38 - 29 = 9$



Réponses / Résultats :
 $37 - 29 = 8$ / $72 - 39 = 33$
 $85 - 59 = 26$ / $83 - 79 = 4$



Réponses / Résultats :
 $48 - 39 = 9$ / $88 - 49 = 39$
 $84 - 69 = 15$ / $93 - 89 = 4$



Réponses / Résultats :
 $92 - 59 = 33$ / $59 - 29 = 30$
 $74 - 39 = 35$ / $91 - 69 = 22$



Réponses / Résultats :
 $82 - 59 = 23$ / $90 - 39 = 51$
 $800 - 39 = 761$ / $82 - 49 = 33$



Réponses / Résultats :
 $90 - 29 = 61$ / $47 - 29 = 18$
 $68 - 39 = 29$ / $600 - 89 = 511$

8

ENTRAINEMENT 9

Ecris les égalités ci-dessous et calcule le résultat.

$57 - 21 = \square$

$81 - 21 = \square$

$72 - 31 = \square$

$300 - 41 = \square$

04

LA TANIÈRE DE Kyban

étoile rose

8

ENTRAINEMENT 10

Ecris les égalités ci-dessous et calcule le résultat.

$72 - 11 = \square$

$48 - 31 = \square$

$60 - 11 = \square$

$90 - 31 = \square$

04

LA TANIÈRE DE Kyban

étoile rose

8

ENTRAINEMENT 11

Ecris les égalités ci-dessous et calcule le résultat.

$37 - 21 = \square$

$72 - 31 = \square$

$85 - 51 = \square$

$83 - 71 = \square$

04

LA TANIÈRE DE Kyban

étoile rose

8

ENTRAINEMENT 12

Ecris les égalités ci-dessous et calcule le résultat.

$90 - 21 = \square$

$80 - 71 = \square$

$69 - 31 = \square$

$38 - 21 = \square$

04

LA TANIÈRE DE Kyban

étoile rose

8

ENTRAINEMENT 13

Ecris les égalités ci-dessous et calcule le résultat.

$92 - 51 = \square$

$29 - 21 = \square$

$74 - 31 = \square$

$90 - 61 = \square$

04

LA TANIÈRE DE Kyban

étoile rose

8

ENTRAINEMENT 14

Ecris les égalités ci-dessous et calcule le résultat.

$38 - 31 = \square$

$88 - 41 = \square$

$84 - 61 = \square$

$93 - 81 = \square$

04

LA TANIÈRE DE Kyban

étoile rose

8

ENTRAINEMENT 15

Ecris les égalités ci-dessous et calcule le résultat.

$90 - 21 = \square$

$47 - 21 = \square$

$68 - 31 = \square$

$600 - 81 = \square$

04

LA TANIÈRE DE Kyban

étoile rose

8

ENTRAINEMENT 16

Ecris les égalités ci-dessous et calcule le résultat.

$82 - 51 = \square$

$90 - 31 = \square$


$800 - 31 = \square$

$82 - 41 = \square$

04

LA TANIÈRE DE Kyban

étoile rose



Réponses / Résultats :

$$72 - 11 = 61 / 48 - 31 = 17$$

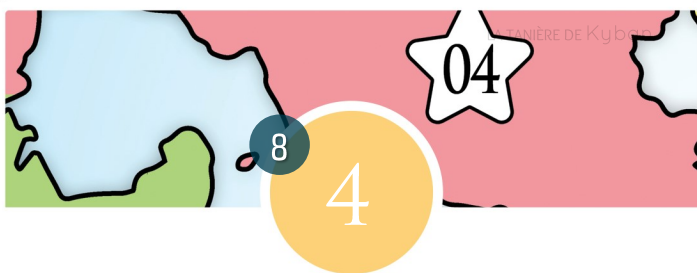
$$60 - 11 = 49 / 90 - 31 = 59$$



Réponses / Résultats :

$$57 - 21 = 36 / 81 - 21 = 60$$

$$72 - 31 = 41 / 300 - 41 = 259$$



Réponses / Résultats :

$$90 - 21 = 69 / 80 - 71 = 10$$

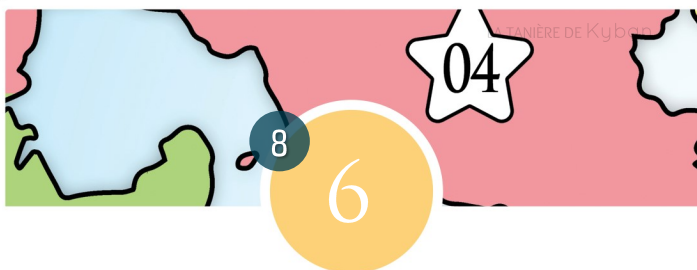
$$69 - 31 = 38 / 38 - 21 = 17$$



Réponses / Résultats :

$$37 - 21 = 16 / 72 - 31 = 41$$

$$85 - 51 = 34 / 83 - 71 = 12$$



Réponses / Résultats :

$$38 - 31 = 7 / 88 - 49 = 39$$

$$84 - 69 = 15 / 93 - 81 = 12$$



Réponses / Résultats :

$$92 - 51 = 41 / 29 - 21 = 8$$

$$74 - 31 = 43 / 90 - 61 = 29$$



Réponses / Résultats :

$$82 - 51 = 31 / 90 - 391 = 59$$

$$800 - 31 = 769 / 82 - 41 = 41$$



Réponses / Résultats :

$$90 - 21 = 69 / 47 - 21 = 26$$

$$68 - 31 = 37 / 600 - 81 = 519$$

9

ENTRAINEMENT 1

Pour chaque nombre écris son quart.

260

180

52

204



04

LA TANIÈRE DE Kyban

étoile rose

9

ENTRAINEMENT 2

Pour chaque nombre écris son quart.

80

300

220

92



04

LA TANIÈRE DE Kyban

étoile rose

9

ENTRAINEMENT 3

Pour chaque nombre écris son quart.

152

340

372

320



04

LA TANIÈRE DE Kyban

étoile rose

9

ENTRAINEMENT 4

Pour chaque nombre écris son quart.

120

148

360

192



04

LA TANIÈRE DE Kyban

étoile rose

9

ENTRAINEMENT 5

Pour chaque nombre écris son quart.

160

420

400

164



04

LA TANIÈRE DE Kyban

étoile rose

9

ENTRAINEMENT 6

Pour chaque nombre écris son quart.

200

284

380

148



04

LA TANIÈRE DE Kyban

étoile rose

9

ENTRAINEMENT 7

Pour chaque nombre écris son quart.

240

256

136

460



04

LA TANIÈRE DE Kyban

étoile rose

9

ENTRAINEMENT 8

Pour chaque nombre écris son quart.

280

500

164

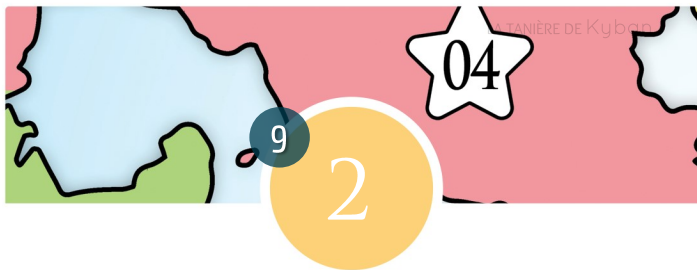
148



04

LA TANIÈRE DE Kyban

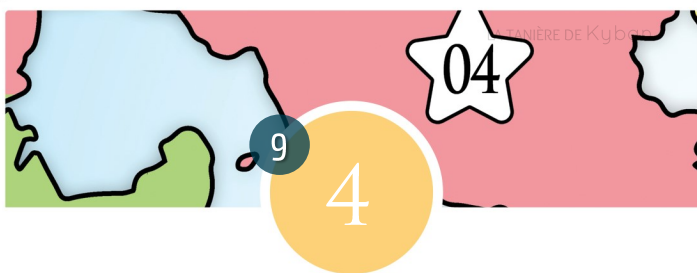
étoile rose



Réponses / Résultats :
 $80 \rightarrow 20 / 300 \rightarrow 72 / 220 \rightarrow 55 / 92 \rightarrow 23$



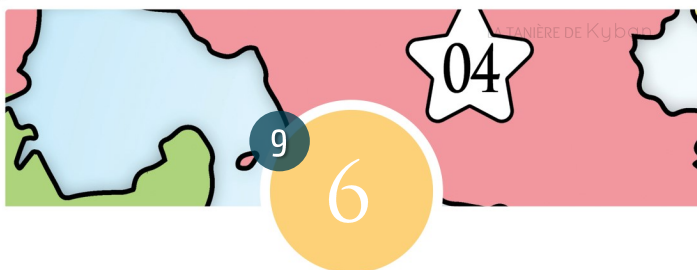
Réponses / Résultats :
 $260 \rightarrow 65 / 180 \rightarrow 45 / 52 \rightarrow 13 / 204 \rightarrow 51$



Réponses / Résultats :
 $120 \rightarrow 30 / 148 \rightarrow 74 / 360 \rightarrow 90 / 192 \rightarrow 48$



Réponses / Résultats :
 $152 \rightarrow 38 / 340 \rightarrow 85 / 372 \rightarrow 93 / 320 \rightarrow 80$



Réponses / Résultats :
 $200 \rightarrow 50 / 284 \rightarrow 71 / 380 \rightarrow 95 / 148 \rightarrow 37$



Réponses / Résultats :
 $160 \rightarrow 40 / 420 \rightarrow 105 / 400 \rightarrow 100 / 164 \rightarrow 41$



Réponses / Résultats :
 $280 \rightarrow 70 / 500 \rightarrow 125 / 164 \rightarrow 41 / 148 \rightarrow 37$



Réponses / Résultats :
 $240 \rightarrow 60 / 256 \rightarrow 64 / 136 \rightarrow 34 / 460 \rightarrow 115$

9

ENTRAINEMENT 9

Pour chaque nombre écris son quadruple.

49

12

52

87



04

LA TANIÈRE DE Kyban

étoile rose

9

ENTRAINEMENT 10

Pour chaque nombre écris son quadruple.

45

18

49

58



04

LA TANIÈRE DE Kyban

étoile rose

9

ENTRAINEMENT 11

Pour chaque nombre écris son quadruple.

93

72

24

57



04

LA TANIÈRE DE Kyban

étoile rose

9

ENTRAINEMENT 12

Pour chaque nombre écris son quadruple.

96

10

85

59



04

LA TANIÈRE DE Kyban

étoile rose

9

ENTRAINEMENT 13

Pour chaque nombre écris son quadruple.

37

87

8

63



04

LA TANIÈRE DE Kyban

étoile rose

9

ENTRAINEMENT 14

Pour chaque nombre écris son quadruple.

68

32

91

89



04

LA TANIÈRE DE Kyban

étoile rose

9

ENTRAINEMENT 15

Pour chaque nombre écris son quadruple.

48

59

43

70



04

LA TANIÈRE DE Kyban

étoile rose

9

ENTRAINEMENT 16

Pour chaque nombre écris son quadruple.

82

48

75

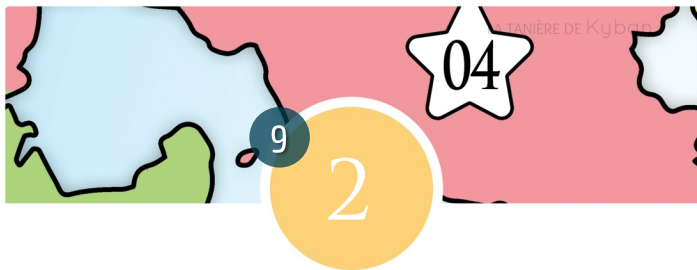
4



04

LA TANIÈRE DE Kyban

étoile rose



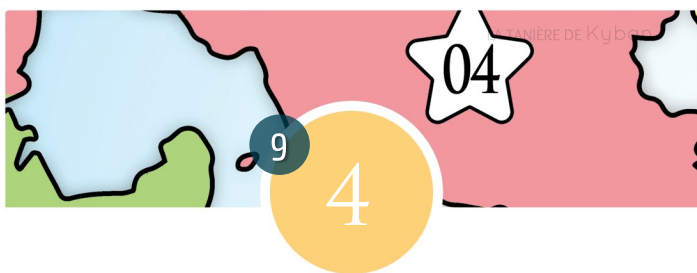
Réponses / Résultats :

45 → 180 / 18 → 72 / 49 → 196 / 58 → 232



Réponses / Résultats :

49 → 196 / 12 → 48 / 52 → 208 / 87 → 348



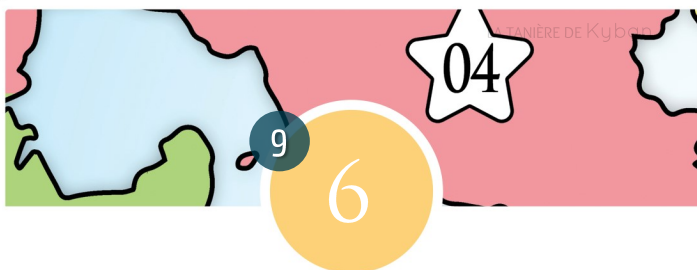
Réponses / Résultats :

96 → 384 / 10 → 40 / 85 → 340 / 59 → 236



Réponses / Résultats :

93 → 372 / 72 → 288 / 24 → 96 / 57 → 228



Réponses / Résultats :

68 → 272 / 32 → 128 / 91 → 364 / 89 → 356



Réponses / Résultats :

37 → 148 / 87 → 348 / 8 → 32 / 63 → 252



Réponses / Résultats :

82 → 328 / 48 → 192 / 75 → 300 / 4 → 16



Réponses / Résultats :

48 → 192 / 59 → 236 / 43 → 172 / 70 → 280

10

ENTRAINEMENT 1

Ecris les égalités ci-dessous et complète.

$4 \times \square = 28$

$7 \times \square = 56$

$8 \times \square = 24$

$6 \times \square = 48$

04

LA TANIÈRE DE Kuban

étoile rose

10

ENTRAINEMENT 2

Ecris les égalités ci-dessous et complète.

$8 \times \square = 48$

$4 \times \square = 24$

$3 \times \square = 24$

$7 \times \square = 28$

04

LA TANIÈRE DE Kuban

étoile rose

10

ENTRAINEMENT 3

Ecris les égalités ci-dessous et complète.

$4 \times \square = 40$

$3 \times \square = 12$

$6 \times \square = 48$

$8 \times \square = 56$

04

LA TANIÈRE DE Kuban

étoile rose

10

ENTRAINEMENT 4

Ecris les égalités ci-dessous et complète.

$8 \times \square = 64$

$4 \times \square = 8$

$2 \times \square = 16$

$7 \times \square = 56$

04

LA TANIÈRE DE Kuban

étoile rose

10

ENTRAINEMENT 5

Ecris les égalités ci-dessous et complète.

$7 \times \square = 28$

$9 \times \square = 73$

$8 \times \square = 40$

$8 \times \square = 32$

04

LA TANIÈRE DE Kuban

étoile rose

10

ENTRAINEMENT 6

Ecris les égalités ci-dessous et complète.

$4 \times \square = 16$

$8 \times \square = 48$

$3 \times \square = 24$

$8 \times \square = 72$

04

LA TANIÈRE DE Kuban

étoile rose

10

ENTRAINEMENT 7

Ecris les égalités ci-dessous et complète.

$8 \times \square = 40$

$7 \times \square = 56$

$5 \times \square = 20$

$4 \times \square = 12$

04

LA TANIÈRE DE Kuban

étoile rose

10

ENTRAINEMENT 8

Ecris les égalités ci-dessous et complète.

$7 \times \square = 56$

$4 \times \square = 32$


$8 \times \square = 64$

$9 \times \square = 36$

04

LA TANIÈRE DE Kuban

étoile rose



Réponses / Résultats :

$$8 \times 6 = 48 / 4 \times 6 = 24$$


$$3 \times 8 = 24 / 7 \times 4 = 28$$



Réponses / Résultats :

$$4 \times 7 = 28 / 7 \times 8 = 56$$

$$8 \times 3 = 24 / 6 \times 8 = 48$$



Réponses / Résultats :

$$8 \times 8 = 64 / 4 \times 2 = 8$$


$$2 \times 8 = 16 / 7 \times 4 = 28$$



Réponses / Résultats :

$$4 \times 10 = 40 / 3 \times 4 = 12$$

$$6 \times 8 = 48 / 8 \times 7 = 56$$



Réponses / Résultats :

$$4 \times 4 = 16 / 8 \times 6 = 48$$

$$3 \times 8 = 24 / 8 \times 9 = 72$$



Réponses / Résultats :

$$7 \times 4 = 28 / 9 \times 8 = 73$$

$$8 \times 5 = 40 / 8 \times 4 = 32$$



Réponses / Résultats :

$$7 \times 8 = 56 / 4 \times 8 = 32$$

$$8 \times 8 = 64 / 9 \times 4 = 36$$



Réponses / Résultats :

$$8 \times 5 = 40 / 7 \times 8 = 56$$

$$5 \times 4 = 20 / 4 \times 3 = 12$$