

1

7

+

ENTRAINEMENT 1

Ecris 5 sommes (+) de deux nombres étant égales au nombre écrit en haut du cadre.

01 LA TANIÈRE DE Kuban

étoile blanche

1

5

+

ENTRAINEMENT 2

Ecris 5 sommes (+) de deux nombres étant égales au nombre écrit en haut du cadre.

01 LA TANIÈRE DE Kuban

étoile blanche

1

9

+

ENTRAINEMENT 3

Ecris 5 sommes (+) de deux nombres étant égales au nombre écrit en haut du cadre.

01 LA TANIÈRE DE Kuban

étoile blanche

1

10

+

ENTRAINEMENT 4

Ecris 5 sommes (+) de deux nombres étant égales au nombre écrit en haut du cadre.

01 LA TANIÈRE DE Kuban

étoile blanche

1

6

+

ENTRAINEMENT 5

Ecris 5 sommes (+) de deux nombres étant égales au nombre écrit en haut du cadre.

01 LA TANIÈRE DE Kuban

étoile blanche

1

8

+

ENTRAINEMENT 6

Ecris 5 sommes (+) de deux nombres étant égales au nombre écrit en haut du cadre.

01 LA TANIÈRE DE Kuban

étoile blanche

2

ENTRAINEMENT 1

Ecris les égalités ci-dessous et donne le résultat.

8 = 5 +

9 = 5 +

7 = 5 +

6 = 5 +

01 LA TANIÈRE DE Kuban

étoile blanche

2

ENTRAINEMENT 2

Ecris les égalités ci-dessous et complète.

5 + = 10

4 + = 10

6 + = 10

2 + = 10

01 LA TANIÈRE DE Kuban


étoile blanche



Réponses / Résultats :  
 $5+0 / 4+1 / 3+2 / 2+3 / 1+4 / 0+5$



Réponses / Résultats :  
 $7+0 / 6+1 / 5+2 / 4+3 / 3+4 / 2+5 / 1+6 / 0+7$



Réponses / Résultats :  
 $10+0 / 9+1 / 8+2 / 7+3 / 6+4 / 5+5$   
 $4+6 / 3+7 / 2+8 / 1+9 / 0+10$



Réponses / Résultats :  
 $9+0 / 8+1 / 7+2 / 6+3 / 5+4 / 4+5$   
 $3+6 / 2+7 / 1+8 / 0+9$



Réponses / Résultats :  
 $8+0 / 7+1 / 6+2 / 5+3 / 4+4 / 3+5 / 2+6 / 1+7 / 0+8$



Réponses / Résultats :  
 $6+0 / 5+1 / 4+2 / 3+3 / 2+4 / 1+5 / 0+6$



Réponses / Résultats :  
 $5+5=10 / 6+4=10 / 4+6=10 / 2+8=10$



Réponses / Résultats :  
 $8=5+3 / 7=5+2 / 9=5+4 / 6=5+1$

2

## ENTRAINEMENT 3

Ecris les égalités ci-dessous et complète.

$3 + \square = 10$

$7 + \square = 10$

$5 + \square = 10$

$9 + \square = 10$

01

LA TANIÈRE DE Kyban

étoile blanche

2

## ENTRAINEMENT 4

Ecris les égalités ci-dessous et complète.

$6 + \square = 10$

$2 + \square = 10$

$5 + \square = 10$

$8 + \square = 10$

01

LA TANIÈRE DE Kyban

étoile blanche

2

## ENTRAINEMENT 5

Ecris les égalités ci-dessous et complète.

$4 + \square = 10$

$6 + \square = 10$

$8 + \square = 10$

$2 + \square = 10$

01

LA TANIÈRE DE Kyban

étoile blanche

2

## ENTRAINEMENT 6

Ecris les égalités ci-dessous et complète.

$3 + \square = 10$

$4 + \square = 10$

$9 + \square = 10$

$7 + \square = 10$

01

LA TANIÈRE DE Kyban

étoile blanche

3

## ENTRAINEMENT 1

Ecris les égalités ci-dessous et calcule le résultat.

$9 + 5 = \square$

$7 + 9 = \square$

$4 + 8 = \square$

$8 + 5 = \square$

01

LA TANIÈRE DE Kyban

étoile blanche

3

## ENTRAINEMENT 2

Ecris les égalités ci-dessous et calcule le résultat.

$8 + 3 = \square$

$5 + 9 = \square$

$7 + 6 = \square$

$6 + 8 = \square$

01

LA TANIÈRE DE Kyban

étoile blanche

4

## ENTRAINEMENT 3

Ecris les égalités ci-dessous et calcule le résultat.

$9 + 1 + 5 = \square$

$8 + 7 + 2 = \square$

$7 + 2 + 3 = \square$

$4 + 4 + 6 = \square$

01

LA TANIÈRE DE Kyban

étoile blanche

4

## ENTRAINEMENT 4

Ecris les égalités ci-dessous et calcule le résultat.

$5 + 7 + 3 = \square$

$6 + 7 + 4 = \square$

$8 + 4 + 2 = \square$

$3 + 7 + 5 = \square$

01


LA TANIÈRE DE Kyban

étoile blanche



Réponses / Résultats :

$6 + 4 = 10$  /  $5 + 5 = 10$  /  $2 + 8 = 10$  /  $8 + 2 = 10$



Réponses / Résultats :

$3 + 7 = 10$  /  $5 + 5 = 10$  /  $7 + 3 = 10$  /  $9 + 1 = 10$




Réponses / Résultats :

$3 + 7 = 10$  /  $9 + 1 = 10$  /  $4 + 6 = 10$  /  $7 + 3 = 10$



Réponses / Résultats :

$4 + 6 = 10$  /  $8 + 2 = 10$  /  $6 + 4 = 10$  /  $2 + 8 = 10$



Réponses / Résultats :

$8 + 3 = 11$  /  $7 + 6 = 13$  /  $5 + 9 = 14$  /  $6 + 8 = 14$



Réponses / Résultats :

$9 + 5 = 14$  /  $4 + 8 = 12$  /  $7 + 9 = 16$  /  $8 + 5 = 13$



Réponses / Résultats :

$5 + 7 + 3 = 15$  /  $8 + 4 + 2 = 14$  /  $6 + 7 + 4 = 17$  /  $3 + 7 + 5 = 15$



Réponses / Résultats :

$9 + 1 + 5 = 15$  /  $7 + 2 + 3 = 12$  /  $8 + 7 + 2 = 17$  /  $4 + 4 + 6 = 14$

4

## ENTRAINEMENT 5

Ecris les égalités ci-dessous et calcule le résultat.

$3 + 7 + 5 =$

$3 + 6 + 4 =$

$8 + 2 + 9 =$

$5 + 9 + 5 =$

01

LA TANIÈRE DE Kyban

étoile blanche

4

## ENTRAINEMENT 6

Ecris les égalités ci-dessous et calcule le résultat.

$3 + 4 + 7 =$

$5 + 6 + 5 =$

$8 + 2 + 7 =$

$4 + 6 + 5 =$

01

LA TANIÈRE DE Kyban

étoile blanche

5

## ENTRAINEMENT 7

Ecris les égalités ci-dessous et calcule le résultat.

$7 + 20 =$

$157 + 400 =$

$125 + 300 =$

$6 + 90 =$

01

LA TANIÈRE DE Kyban

étoile blanche

5

## ENTRAINEMENT 8

Ecris les égalités ci-dessous et calcule le résultat.

$412 + 200 =$

$50 + 12 =$

$9 + 40 =$

$113 + 600 =$

01

LA TANIÈRE DE Kyban

étoile blanche

5

## ENTRAINEMENT 1

Ecris les égalités ci-dessous et calcule le résultat.

$700 + 23 =$

$47 + 20 =$

$62 + 20 =$

$125 + 20 =$

01

LA TANIÈRE DE Kyban

étoile blanche

5

## ENTRAINEMENT 2

Ecris les égalités ci-dessous et calcule le résultat.

$70 + 123 =$

$152 + 50 =$

$900 + 50 =$

$153 + 300 =$

01

LA TANIÈRE DE Kyban

étoile blanche

5

## ENTRAINEMENT 3

Ecris les égalités ci-dessous et calcule le résultat.

$50 + 16 =$

$128 + 500 =$

$80 + 100 =$

$320 + 20 =$

01

LA TANIÈRE DE Kyban

étoile blanche

5

## ENTRAINEMENT 4

Ecris les égalités ci-dessous et calcule le résultat.

$57 + 120 =$

$512 + 200 =$


$68 + 70 =$

$384 + 300 =$

01


LA TANIÈRE DE Kyban

étoile blanche




Réponses / Résultats :

$3 + 4 + 7 = 14$  /  $8 + 2 + 7 = 17$  /  $5 + 6 + 5 = 16$  /  $4 + 6 + 5 = 15$



Réponses / Résultats :

$3 + 7 + 5 = 15$  /  $8 + 2 + 9 = 19$  /  $3 + 6 + 4 = 13$  /  $5 + 9 + 5 = 19$



Réponses / Résultats :

$412 + 200 = 612$  /  $9 + 40 = 49$  /  $50 + 12 = 62$  /  $113 + 600 = 713$



Réponses / Résultats :

$7 + 20 = 27$  /  $125 + 300 = 425$  /  $157 + 400 = 557$  /  $6 + 90 = 96$



Réponses / Résultats :

$70 + 123 = 193$  /  $900 + 50 = 950$  /  $152 + 50 = 202$  /  $153 + 300 = 453$




Réponses / Résultats :

$700 + 23 = 723$  /  $62 + 20 = 82$  /  $47 + 20 = 67$  /  $125 + 20 = 145$



Réponses / Résultats :

$57 + 120 = 177$  /  $68 + 70 = 138$  /  $512 + 200 = 712$  /  $384 + 300 = 884$



Réponses / Résultats :

$50 + 16 = 66$  /  $80 + 100 = 180$  /  $128 + 500 = 628$  /  $320 + 20 = 340$

6

## ENTRAINEMENT 1

Pour chaque nombre écris son double.

4

3

7

9

01

LA TANIÈRE DE Kyban

étoile blanche

6

## ENTRAINEMENT 2

Pour chaque nombre écris son double.

7

8

2

5

01

LA TANIÈRE DE Kyban

étoile blanche

6

## ENTRAINEMENT 3

Pour chaque nombre écris son double.

3

5

6

9

01

LA TANIÈRE DE Kyban

étoile blanche

6

## ENTRAINEMENT 4

Pour chaque nombre écris son double.

4

6

5

8

01

LA TANIÈRE DE Kyban

étoile blanche

7

## ENTRAINEMENT 1

Ecris les égalités ci-dessous et calcule le résultat.

$7 \times 100 =$

$54 \times 1\,000 =$

$42 \times 10 =$

$950 \times 100 =$

01

LA TANIÈRE DE Kyban

étoile blanche

7

## ENTRAINEMENT 2

Ecris les égalités ci-dessous et calcule le résultat.

$102 \times 100 =$

$570 \times 10 =$

$54 \times 1\,000 =$

$42 \times 1\,000 =$

01

LA TANIÈRE DE Kyban

étoile blanche

7

## ENTRAINEMENT 3

Ecris les égalités ci-dessous et calcule le résultat.

$13 \times 1\,000 =$

$25 \times 1\,000 =$

$240 \times 10 =$

$80 \times 100 =$

01

LA TANIÈRE DE Kyban

étoile blanche

7

## ENTRAINEMENT 4

Ecris les égalités ci-dessous et calcule le résultat.

$125 \times 10 =$

$520 \times 1\,000 =$

$4 \times 100 =$

$25 \times 1\,000 =$

01


LA TANIÈRE DE Kyban

étoile blanche




Réponses / Résultats :

7 → 14 / 8 → 16 / 2 → 4 / 5 → 10



Réponses / Résultats :

4 → 8 / 3 → 6 / 7 → 14 / 9 → 18




Réponses / Résultats :

4 → 8 / 6 → 12 / 5 → 10 / 8 → 16



Réponses / Résultats :

3 → 6 / 5 → 10 / 6 → 12 / 9 → 18




Réponses / Résultats :

102 × 100 = 10 200 / 54 × 1 000 = 54 000  
570 × 10 = 5 700 / 42 × 1 000 = 42 000




Réponses / Résultats :

7 × 100 = 700 / 42 × 10 = 420  
54 × 1 000 = 54 000 / 950 × 100 = 95 000



Réponses / Résultats :

125 × 10 = 1 250 / 4 × 100 = 400  
520 × 1 000 = 520 000 / 25 × 1 000 = 25 000



Réponses / Résultats :

13 × 1 000 = 13 000 / 240 × 10 = 2 400  
25 × 1 000 = 25 000 / 80 × 100 = 8 000



8

## ENTRAINEMENT 1

Ecris les égalités ci-dessous et calcule le résultat.

$18 - 6 = \square$

$18 - 5 = \square$

$24 - 3 = \square$

$45 - 3 = \square$

01

LA TANIÈRE DE Kyban

étoile blanche

8

## ENTRAINEMENT 2

Ecris les égalités ci-dessous et calcule le résultat.

$84 - 2 = \square$

$38 - 5 = \square$

$57 - 4 = \square$

$47 - 3 = \square$

01

LA TANIÈRE DE Kyban

étoile blanche

8

## ENTRAINEMENT 3

Ecris les égalités ci-dessous et calcule le résultat.

$82 - 1 = \square$

$78 - 7 = \square$

$58 - 6 = \square$

$54 - 2 = \square$

01

LA TANIÈRE DE Kyban

étoile blanche

8

## ENTRAINEMENT 4

Ecris les égalités ci-dessous et calcule le résultat.

$87 - 5 = \square$

$39 - 5 = \square$

$68 - 3 = \square$

$67 - 6 = \square$

01

LA TANIÈRE DE Kyban

étoile blanche

8

## ENTRAINEMENT 5

Ecris les égalités ci-dessous et calcule le résultat.

$73 - 2 = \square$

$238 - 5 = \square$

$528 - 17 = \square$

$35 - 2 = \square$

01

LA TANIÈRE DE Kyban

étoile blanche

8

## ENTRAINEMENT 6

Ecris les égalités ci-dessous et calcule le résultat.

$482 - 1 = \square$

$74 - 3 = \square$

$587 - 5 = \square$

$127 - 5 = \square$

01

LA TANIÈRE DE Kyban

étoile blanche

9

## ENTRAINEMENT 1

Ecris les égalités ci-dessous et calcule le résultat.

$621 - 30 = \square$

$351 - 30 = \square$

$183 - 50 = \square$

$380 - 200 = \square$

01

LA TANIÈRE DE Kyban

étoile blanche

9

## ENTRAINEMENT 2

Ecris les égalités ci-dessous et calcule le résultat.

$520 - 30 = \square$

$257 - 30 = \square$

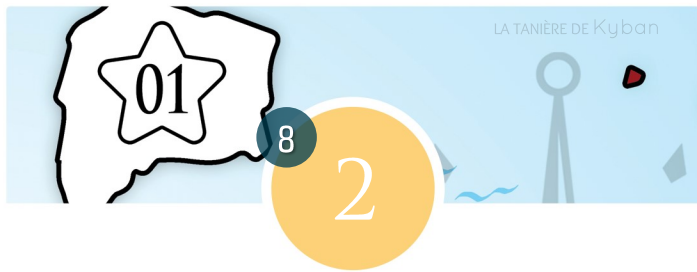
$483 - 200 = \square$

$365 - 80 = \square$

01


LA TANIÈRE DE Kyban

étoile blanche




Réponses / Résultats :

$84 - 2 = 82$  /  $57 - 4 = 53$  /  $38 - 5 = 33$  /  $47 - 3 = 44$




Réponses / Résultats :

$18 - 6 = 12$  /  $24 - 3 = 21$  /  $18 - 5 = 13$  /  $45 - 3 = 42$




Réponses / Résultats :

$87 - 5 = 82$  /  $68 - 3 = 65$  /  $39 - 5 = 34$  /  $67 - 6 = 61$



Réponses / Résultats :

$82 - 1 = 81$  /  $58 - 6 = 52$  /  $78 - 7 = 71$  /  $54 - 2 = 52$



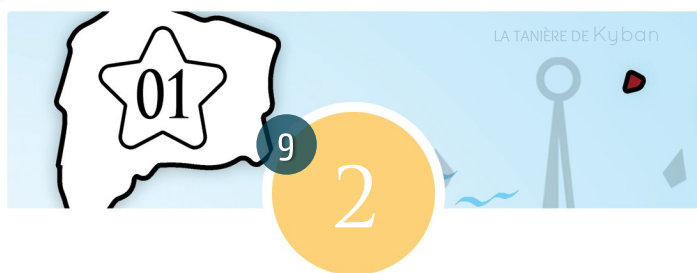
Réponses / Résultats :

$482 - 1 = 481$  /  $587 - 5 = 582$  /  $74 - 3 = 71$  /  $127 - 5 = 122$




Réponses / Résultats :

$73 - 2 = 71$  /  $528 - 17 = 511$  /  $238 - 5 = 233$  /  $35 - 2 = 33$



Réponses / Résultats :

$520 - 30 = 490$  /  $483 - 200 = 283$  /  $257 - 30 = 227$  /  $365 - 80 = 285$



Réponses / Résultats :

$621 - 30 = 591$  /  $183 - 50 = 133$  /  $351 - 30 = 321$  /  $380 - 200 = 180$

9

## ENTRAINEMENT 3

Ecris les égalités ci-dessous et calcule le résultat.

$47 - 20 =$

$39 - 30 =$

$58 - 10 =$

$532 - 300 =$

01

LA TANIÈRE DE Kyban

étoile blanche

9

## ENTRAINEMENT 4

Ecris les égalités ci-dessous et calcule le résultat.

$543 - 20 =$

$623 - 400 =$

$741 - 30 =$

$522 - 50 =$

01

LA TANIÈRE DE Kyban

étoile blanche

9

## ENTRAINEMENT 5

Ecris les égalités ci-dessous et calcule le résultat.

$324 - 200 =$

$124 - 60 =$

$578 - 50 =$

$58 - 20 =$

01

LA TANIÈRE DE Kyban

étoile blanche

9

## ENTRAINEMENT 6

Ecris les égalités ci-dessous et calcule le résultat.

$542 - 80 =$

$225 - 30 =$

$720 - 600 =$

$682 - 10 =$

01

LA TANIÈRE DE Kyban

étoile blanche

10

## ENTRAINEMENT 1

Pour chaque nombre écris sa moitié.

4

16

12

20



01

LA TANIÈRE DE Kyban

étoile blanche

10

## ENTRAINEMENT 2

Pour chaque nombre écris sa moitié.

20

10

18

16



01

LA TANIÈRE DE Kyban

étoile blanche

10

## ENTRAINEMENT 3

Pour chaque nombre écris sa moitié.

12

18

8

14



01

LA TANIÈRE DE Kyban

étoile blanche

10

## ENTRAINEMENT 4

Pour chaque nombre écris sa moitié.

8

6

14


10



01

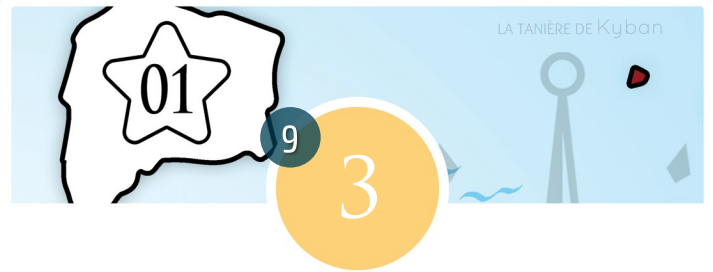
LA TANIÈRE DE Kyban

étoile blanche




Réponses / Résultats :

543 - 30 = 313 / 741 - 30 = 711 / 623 - 400 = 223 / 522 - 50 = 472




Réponses / Résultats :

47 - 20 = 27 / 58 - 10 = 48 / 39 - 30 = 9 / 532 - 300 = 232



Réponses / Résultats :

542 - 80 = 462 / 720 - 60 = 660 / 225 - 30 = 195 / 682 - 10 = 672



Réponses / Résultats :

324 - 20 = 304 / 578 - 50 = 528 / 124 - 60 = 64 / 58 - 20 = 38




Réponses / Résultats :

20 → 10 / 10 → 5 / 18 → 9 / 16 → 8




Réponses / Résultats :

4 → 2 / 16 → 8 / 12 → 6 / 20 → 10



Réponses / Résultats :

8 → 4 / 6 → 3 / 14 → 7 / 10 → 5



Réponses / Résultats :

12 → 6 / 18 → 9 / 8 → 4 / 14 → 7